



Teamnummer Organisatie

Teamnaam Antwoordenboek

Aantal teamleden _____

Tijdstip ophalen _____


Tijdstip inleveren _____



MUZIEK

1

We hebben AI gevraagd om een afbeelding te maken van muziekstukken. Achterhaal de titel en artiest(en) voor elke afbeelding.



1
Skyfall - Adele



2
Party in the USA
Miley Cyrus



3
Paradise by the
dashboard light
Meatloaf



4
Zoutelanden
Blaf (ft. Geike)



5
Dancing Queen
Abba



6
Bloed, zweet en
tranen -
André Hazes




7
Sterrenstof - De
jeugd van tegenwoordig



8
Englishman in
New York - Sting



9
American Trilogy
Elvis Presley



10
Auto vliegtuig
Rauwen Haze

2

Via deze qr code, hoor je de kerktoren een X aantal uren slaan. Zorg ervoor dat je op dit tijdstip bij de kerk bent en een vlog maakt waarin een teamlid te zien is, de kerktoren en waar we het horen hoe laat het is. Zet dit filmpje op de usb stick in de categorie muziek met de tekst kerktoren.



- vlog ingediend = 3 pt
- teamlid zichtbaar = 3 pt
- tijdstip klopt - 4 pt
(9 uur)

3

Bekijk de partij van de Boeremoosrock. Deze is incompleet. Alle herhalingstekens missen namelijk, met uitzondering van de fade out in de laatste twee maten, die blijven herhalen. De opdracht is simpel: voeg alle herhalingstekens toe. Dit kunnen dus bijvoorbeeld speciale maatstrepen, Del segno's, volta's en coda's zijn.

Teken deze in de partij, zodat de partij weer correspondeert met de opname van Jan Theelen uit 1994. De telling begint daarbij pas ná de koe, dus als de blazers inzetten.

De boeremoosrock

T/M: John Gubbels/Jac Linssen

$\text{♩} = 210$
Swing

10 D7 A7 B7 E7

16 A D7 A

22 D7 E7 D7 A

29 Solo A7 D7 A7 E7 D7 A7

40 F7 Bb7 Eb7 Bb7

47 C7 F7 Bb Eb7

53 Bb Eb7 F7

59 Eb7 Bb7 F7 F7 Bb7

Fade out

4

Wat hebben de 2 plaatsen, die met het rode vierkantje gemarkeerd zijn, muzikaal gemeen?



Afbeelding 1 = Frankfurt a/M Oder Afbeelding 2 = Zoutelande
Het nummer Zoutelande (Bløf) is een muzikale cover
van het nummer Frankfurt Oder (Originals).

5

Wat weet jij over de Reuverse Orkest Vereniging?

1. In welk jaar bestonden ze 75 jaar?

2007

2. Wie heeft het eerste jaarverslag geschreven?

Vic Timmermans

3. Welke twee personen zijn de initiatiefnemers?

Harry Rassaerts & Vic Timmermans

4. Wie was de eerste voorzitter?

Jan Veldman

5. Wie was de eerste beschermheer?

Jos Janssen

6. Wie was in de beginjaren de dirigent?

Harry Rassaerts

7. Wanneer werd het eerste concert gegeven?

18 februari 1933

8. Waar werd dit concert gegeven?

Zaal J. Paquay

9. In 1934 leverde een loterij een dikke honderd gulden op. Hiervan werd een nieuw instrument gekocht. Wie mocht op dit instrument spelen?

Piet Verkoelen

10. Wat was het verenigingslokaal van 1946-1960?

Zaal Paar

6

We kennen allemaal het lied van Nol Wassen uit 1981; 'n blaad oet 't Ruivers woordenboek
Maar weten we ook wie de mensen zijn die genoemd worden?
Wie weet de achternamen (geboortenaam)?

Kraak

Gommans

Jeutje

van Doorn

Naadje

Smets

Graatje

Wanten

Neutje

Steeghs

Nautje

Gubbels

Ome Harie en tante Trautje

Wassen & Langowi


7

Er zijn verschillende evenementen in Reuver waarin muziek een grote rol speelt.
Bekijk de foto's van de onderstaande artiesten en vermeld per foto:

1. De naam van de band/artiest


2. Bij welk Reuvers evenement in 2025 deze artiest te zien en horen was.

Let op: de foto's hieronder zijn met een telefoon gemaakt en niet noodzakelijkerwijs van het Reuverse evenement afkomstig.



Midnite Moses

Offenbek Open Air



Klubbheads/Koen Groeneveld

Smashed Potatoes



Rozie

Op dreef



Alex (& the Rhythms)

Jubileum Nettoet Bid



Roy Verbeek

Nieuwjaarsconcert
Harmonie




1. Hoe heet deze band?
Volumes
2. Deze band komt uit de jaren...
60
3. Hoe heten de bandleden (van links naar rechts)?
- Peter Schattorie
- Raymond Domingus
- Jack Schattorie
- Huub Janssen

9

Bij deze vraag is het handig als je het marsenboekje bij de hand hebt. Hier zie je stukjes van de baspartij van vier liedjes. Bij welke muziekstukken horen deze baspartijen?




Bye bye bye madonna



Ich bin wie du



Limburgse Jagers



Non non rien

3

Zo'n 50 jaar geleden was er in Reuver een heuse club van jongeren die voor elkaar heel veel dingen organiseerden. De naam van die groep was O.J.C Piejus.

1. Waar staat de afkorting O.J.C voor in de naam?

Open jongerencentrum

2. Op welke datum is Piejus opgericht?

31 augustus 1975

3. Waar hadden ze hun clublokaal?

In de Schakel (past. Vranckenban) op de zolder boven de bühne

4. Hoe groot was de vloeroppervlakte van dat lokaal toen ze begonnen?

80 m²

5. Na 1 jaar werd er al verbouwd omdat de ruimte te klein was geworden. Hoeveel vierkante meter werd er toen toegevoegd?

70 m²

6. Wie was de eerste voorzitter van het coördinatieteam?

Ton Verlysdonk

7. Hoe heette het blad dat ze regelmatig uitbrachten?

Piejus Bulletin

8. Wat was de minimum leeftijd om het lokaal te mogen bezoeken?

16

9. Welke dagen van de week was Piejus open in het eerste jaar?

woensdag, vrijdag, zaterdag, zondag

10. Piejus had diverse commissies. Noem er drie.


drie van de volgende: *muziek; *sport;
*cultuur; *bijzondere activiteiten; *buffet;
*ruimte; *publiciteit

4


Even terug in de tijd. Dit zijn pentekeningen van gebouwen uit de jaren 50.
Aan welke straat liggen/ lagen deze gebouwen?




Keulseweg




Past. Vranckenlaan &
Kesselseweg



Rijksweg



Roosendaelseweg



St. Annastraat

5

We hebben wat historische feitjes voor jullie op een rijtje gezet. Hierin ontbreken een aantal woorden. Vul de zinnen aan, zodat de feitjes kloppen.

1. In de dertiger jaren had Joep Paquay naast een bioscoop-danszaal ook nog een ander zakelijk perceel met daarop ...

een aspergeveld

2. De productie van de greswarenfabriek van Janssen-Willemsen lag in 1940/1941 bijna een jaar stil als gevolg van ...

brand

3. Baerke Steeghs had heel wat jaren in een klein bedrijfspandje aan de Keulseweg tegenover de greswarenfabriek van Teeuwen ...

een (eenmans) sigarenfabriek

4. In 1965 zijn er plannen geweest om het Heilig-Hartbeeld (voor het oude gemeentehuis) te verplaatsen naar een plek bij ...

(de ingang van) het kerkhof

5. Tijdens de Tweede Wereldoorlog werd de toren van de St.-Lambertuskerk beschoten omdat de bevrijders aan de overkant van de Maas dachten dat het een ... was.

uitkijkpost (van de Duitsers)

6


Hoera!! Gemeente Beesel bestaat dit jaar 750 jaar. Om deze feestelijke aangelegenheid wat kleur te geven, vragen wij jullie om met ons samen de slingers op te hangen.



Maak een vlaggetjeslijn van minimaal twee meter lang. Gebruik hiervoor minimaal drie verschillende soorten materialen. En zorg ervoor dat er minimaal drie details in de slinger zijn die samen laten zien dat deze speciaal gemaakt is voor het jubileum van de Gemeente Beesel. **Lever de slinger in samen met het boekje. Zorg ervoor dat jullie teamnaam-nummer vermeld staat.**

7

Door de jaren heen hebben we al heel veel wereldleiders gehad. Ieder, op zijn manier, heeft geschiedenis geschreven. Herken jij de jongere uitgave van deze wereldleiders? Graag voor- en achternaam.



Abraham Lincoln



Adolf Hitler




Barack Obama



Che Guevara



Jozef Stalin




Mahatma Gandhi



Mao Zedong



Nelson Mandela



Ronald Reagan



Willem-Alexander van Oranje

8

Woningvereniging St. Jozef gaf in 1922 opdracht voor de bouw van woningen.

1. Hoeveel woningen?

10

2. Waar worden deze gebouwd?

Aan de St.-Jozefweg

3. Door welke aannemer?

Litjens

9

De benaming van onderstaande straten zou in eerste instantie anders luiden.
Geef voor elk van de straten aan hoe deze bijna had geheten.

1. Greswarenstraat

Gresbuisstraat

2. Kleilagerstraat

Plavuisstraat

3. Sintelstraat

Dakpanstraat




SPORT EN SPEL

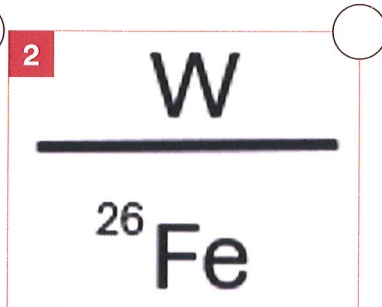


1


Welk woord wordt in onderstaande afbeelding weergegeven?



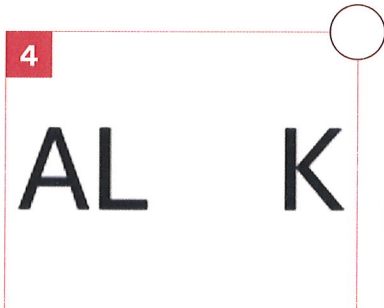
grondwet




onderwijzer



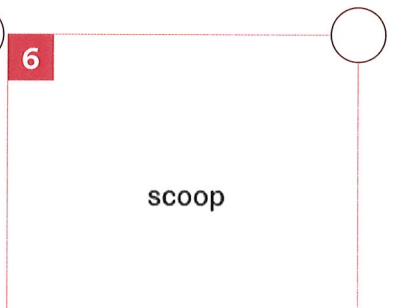
opsomming



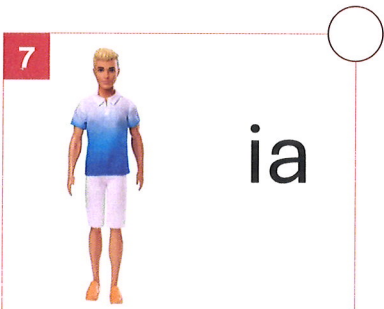
kanaal



miniatuur



microscoop



Kenia

4

Beantwoord de onderstaande vragen.

1. Maak een foto van vijf verschillende dobbelstenen die elk weliswaar zes zijden hebben, maar daarop niet de nummers 1 t/m 6 hebben staan. Zorg dat elke dobbelsteen uniek is en noteer bij elke dobbelsteen van welk spel deze afkomstig is. **Plak de foto's in het boek.**

2 pt

2. Hoe noemen we het (drank)spel waarbij je probeert 21 te gooien met twee dobbelstenen.

Mexen / Mexxen

3. Welke score heb je gegooit als je bij het vorige spel twee vijven gooit.

500

4. Bij welk dobbelspel maak je setjes of combinaties die lijken op die van Poker?

Yahtzee

5. Maak een filmpje waar iemand vijf keer achter elkaar 6 gooit met dezelfde dobbelsteen.

Zet het filmpje op de in te leveren USB stick.

(5pt)

5

De Kennedymars is de bekendste 80 kilometerloop van de wereld. In Limburg kenden we al de Kennedymars Sittard, waaraan veel Reuvernaren deelnemen, maar in 2025 was er ook de eerste Kennedymars die door de Gemeente Beesel liep.

1. Wie van alle Reuverse deelnemers had de snelste tijd bij de Kennedymars Sittard 2025?

Roy van Rijswijk

2. Wat is de vaakst voorkomende voornaam onder de Reuverse finishers van de Kennedymars Sittard in 2025?

Thijs

3. Ook van Scouting Lambertus Reuver doet elk jaar een delegatie mee. Wie van de lopers die via Scouting Lambertus Reuver was ingeschreven haalde de snelste tijd?

Sjors Dings

4. Welk Reuvers bedrijf maakte reclame met een vlag tegen de trailer van het scanstation bij de Witte Stein?

Hout Import Reuver

5. Hoeveel deelnemers waren er voor de Kennedymars die afgelopen jaar door onze eigen gemeente liep?

134

6

Terug in de tijd, wie kent 'm niet: de rubiks kubus.

We hebben jullie er allemaal 1 gegeven, graag willen we deze met alle vlakken in de juiste kleur retour bij het inleveren van het boekje. Foetelen bestraffen we met minpunten.

Zorg dat jullie teamnaam/nummer aan de kubus is bevestigd.

7


Op 28 juni jongstleden vond in Reuver de Ultimate Warrior Obstacle Run plaats. We zijn benieuwd welke sportievelingen hieraan hebben deelgenomen en daarbij ook nog opgelet waar de betreffende obstakels stonden. Hieronder zie je vijf foto's van obstakels en een plattegrond van Reuver. Geef voor elk obstakel aan in welk 'vakje' van de plattegrond (volgende pagina) het betreffende obstakel stond.



H18




H27



F35



H13



D27



8

Ieder jaar organiseert zwemvereniging ROB een zwemvierdaagse in Reuver. Zo ook dit jaar. Beantwoord onderstaande vragen over dit mooie evenement.

1. Hoeveel deelnemers telde de editie van 2025?

181

2. Hou oud was de jongste deelnemer?

5

3. Hoe vaak heeft de oudste deelnemer aan de zwemvierdaagse deelgenomen?

28 keer

4. Hoeveel stempels zijn er in totaal op de kaartjes gezet?

724

5. Hoeveel drijvers (bolletjes) zijn er per lijn nodig?

100

9

Eens kijken of jullie ook wat sportgeschiedenis paraat hebben. Beantwoord de volgende vragen:

1. Wie was de grote initiator achter de aanleg van sportpark Bösdael?

Mr. G. Bosmans

2. Wie speelde op 7 september 1970 zijn 250ste wedstrijd voor VV Reuver?

Katel aan de Boom

3. "Voetbalspelers van Real Madrid zijn spelers die eau de cologne pissen." Van welke speler van Real Madrid komt deze onderstaande uitspraak?

Santiago Cañizares



WETENSCHAP EN TECHNIEK

1

Eens kijken hoe goed jullie zijn in wiskunde.

Wat is het grootste getal dat kan worden weergegeven met drie cijfers?

999

2

Reuver heeft behoorlijk wat slimmeriken grootgebracht. Hieronder zie je de initialen van vijf (van oorsprong) Reuvernaren die een Phd hebben afgerond. Noteer bij elke persoon de volledige naam en het onderzoeksobject dat bij deze promotie centraal stond.

1. C.M.

Carlijn Mooris (-Litjens)

Tuberculosebehandelingen

2. S.H.

Stevie Hendriks

dementie bij jongvolwassenen

3. E.D.

Eddie Denesse

opvattingen over onderwijs in Nederland

4. A.R.

Allard Roebroek

effectieve connectiviteit/gerichte invloeden tussen herengebieden

5. M.L.

Mark Levels

Abortuswetten (in Europa tussen 1960 en 2010)

3

Vul de lege vakjes zo in dat de getallen van 0 t/m 9 op iedere rij voorkomen en dat de som van de kolom gelijk is aan het totaal in de onderste rij van die kolom.

Identieke getallen mogen elkaar horizontaal, verticaal of diagonaal niet raken.

Tel daarna de getallen uit de blauwe vakjes bij elkaar op en de som is het antwoord op deze vraag.

4	1	7	8	3	5	8	9	2	0
5	3	8	0	4	6	2	7	1	9
1	4	2	7	9	0	3	5	8	6
7	6	9	1	3	4	8	2	0	5
17	14	26	14	19	15	21	23	11	20

18

4

Hieronder staan een aantal cijferraadsels voor jullie.

1. Gebruik letters om een cijfer op te schrijven dat in waarde 50% stijgt als je er één letter van weglaat.

SIX → IX

2. Noteer twee positieve hele getallen die een tweecijferig getal geven als je ze optelt, maar een ééncijferig getal als je ze vermenigvuldigt.

1 en 9

3. Welk bijzonderheid aan het jaar 2025 zien we pas weer terug in het jaar 2116?

Het is een kwadratisch getal ($45^2 = 2025$)

4. Schrijf een piem van minimaal 10 woorden. (piem = pi-gedicht)

Een piem is een gedicht waarbij de woorden gebruikt worden (achv het aantal letters) als geheugensteuntje voor de cijfers in het getal pi (π).

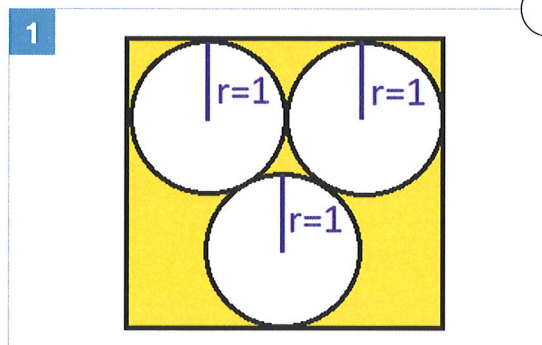
Dus: 3,14159265 enz.

Voorbeeld:

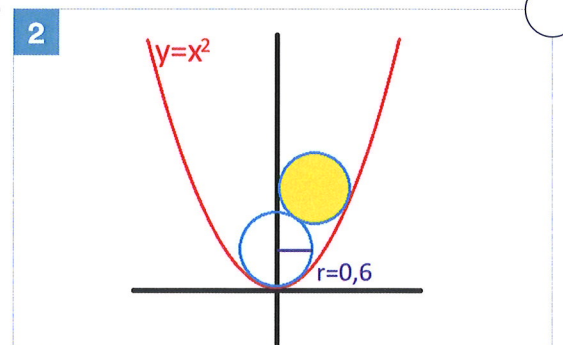
Dhr. P. Huis, o blijf wachtende op iemand
zodat hij nooit helemaal kosteloos weggaat

6

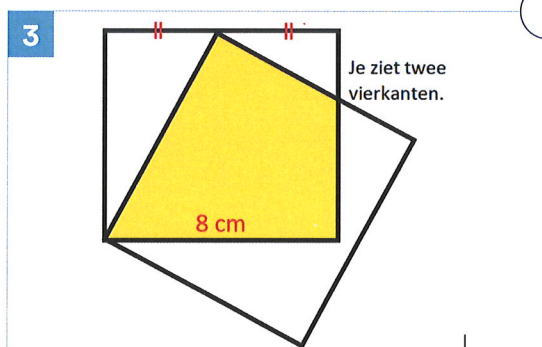
Of je nou grasmatten wil bestellen, een vloer wil betegelen, of gewoon leraar wiskunde bent, het is altijd handig als je de oppervlakte van een bepaald gebied kunt berekenen. Bereken de oppervlaktes van de gele gebieden in de onderstaande afbeeldingen. Je hoeft alleen de antwoorden te noteren en daarbij hoeft je geen eenheid te plaatsen. Let op: de afbeeldingen zijn niet op schaal.



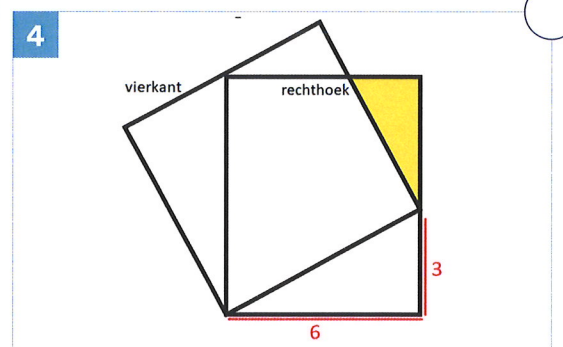
$$8 + 4\sqrt{3} - 3\pi \approx 5,5$$



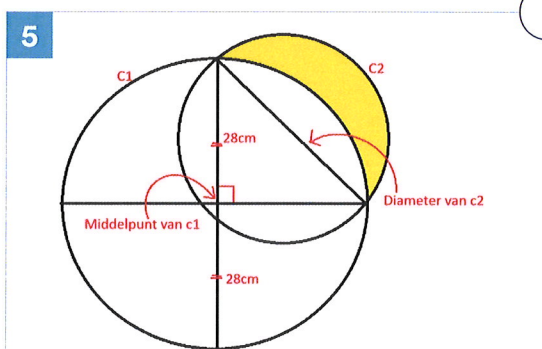
$$\approx 38,401$$



$$40$$



$$\frac{81}{16} \text{ of } 5,0625$$



$$392$$

7

Er zijn veel aparte diersoorten in onze wereld. Weet jij welke dieren we hieronder hebben afgebeeld? Vul voor elk van de onderstaande dieren de naam in.

1



(Hancocks) platworm /
Pseudobiceros hancockanus

2



poema / bergleeuw / zilverleeuw /
puma concolor

3



nachtswaluw

4



marbled lungfish /
protopterus aethiopicus

5



Herculeskever / *Dynastes hercules*



8

Dat de tijd in die 750 jaar gemeente Beesel een belangrijk thema is, zien we terug in onze rotondekunst. Bouw de klok die op de rotonde bij de Bergerhofweg/Heerstaat/Rijksweg staat na met ijzerdraad. Werk dit zo goed mogelijk af.



Zorg dat jullie klok een voetje heeft met daarop jullie teamnaam en laat hem door ons controleren tussen 22.00 en 23.00 uur bij café zaal Ronckenstein.

Criteria: - vorm klok - kleuren - voetje dat de klok
- afwerking - wijzerstand rechtop houdt



9

In 2015 maakte Max Verstappen zijn racedebuut bij de Formule 1 in een Toro Rosso. Stel je voor dat hij met die auto door een looping zou willen rijden met een diameter van 20 meter.

1. Met welke minimumsnelheid moet hij door de looping rijden om er niet uit te vallen?



36 km/h (of 9,9 m/s)

2. Max wil zodra hij de looping in rijdt geen gas meer geven. Welke beginsnelheid moet hij onderaan de looping hebben om het rondje te kunnen voltooien. Laat luchtweerstand en rolweerstand buiten beschouwing.



80 km/h (of 22 m/s)



KUNST, CULTUUR EN THEATER

1

Op deze foto's staan vijf carnavalsmonumenten afgebeeld, die ergens in Limburg op hun voetstuk staan te pronken. Bij welke carnavalsvereniging hoort dit monument en in welk jaar is het geplaatst?



C.V. de Keienschieters
2002

2



de Eekheuëre
1996

3



V.V. de Moeraskwakers
2010

4



de Donderböl
1984 (verplaatst in 2013)

5



C.V. de Kievebeët
1994 of 2008 (opnieuw gemaakt)

2

Bekijk onderstaande afbeelding.



1. Wat is de naam van dit gezelschap?

Puur Theater

2. Hoe heet het stuk dat hier werd opgevoerd?

Nacht in het Puur museum

3. Op welke locatie werd dit stuk opgevoerd?

Innofabriek

4. Wie regisseerde dit stuk?


Yentl Evers

5. Welk popnummer zong de cast (in Nederlandse vertaling)?

9 to 5 (van Dolly Parton)

3

Maak van de onderstaande stukjes een puzzel zodat de afbeelding klopt.
Plak de oplossing in het boekje (volgende pagina).




De oplossing van deze puzzel kunnen
jullie bewonderen aan de Oude Boan
bij het PSW-gebouw.

4

Beantwoord de onderstaande vragen.

1. Wie herkent de heren aan hun achterhoofd? Graag voor- en achternaam.




Erwin Aelen




Huib Timmermans



Tom Strijbos



Tom Veldman



Wiel Weijers

2. En wie herkent de persoon in deze schoenen? Graag voor- en achternaam



Mark Verlinden

5

Rond de "Vastelaovend"tijd worden er door de heren van Puik podcasts opgenomen met alle hoogheden van de gemeente Beesel. Hieronder staan een tiental uitspraken, die tijdens zo'n Podcast in 2025 zijn gedaan. Van wie is betreffende uitspraak?

1. Ich mó't auch 'n bietje ouderlijk advies hóbbe in dees situatie.

Bacchus Baek

2. Iërder sjtings se altied zelf te kieke nao daegene dae op de wage sjting en noe sjteis se d'r zelf.

Prinses Romay

3. Hae kump binne en toen wis ich eigenlijk al voldoende.

Drakeprins Largo

4. 't kwartje waas gauw gevalle.

Boerebroedspaar Jeroen & Ellen / Boerebroedegom Jeroen

5. Eigelijk zinge we alles waal met en kenne we op alles 'n fieësje bouwe.

Jeugd/drakeprinses Eline

6. Die vraag hób ich noe al 80 kiër gehad.

Prins Ralph

7. We hóbbe ein kat en 2 papegaaien.

Jeugboerebroedspaar Cas & Saar / Jeugboerebroed Saar

8. Vastelaovend viers se same en neet allein.

Aadwief Nicole

9. Pizza is waal lekker, maar den dink ich waal det ich veur friet gaon.

Jeugprins Daan (JN)

10. De sjmoes waerde sjlechter en sjlechter.

Bacchus Siem (Bezel)

6


Reuver heeft in de afgelopen 50 jaar best veel kunstenaars gehad die in allerlei disciplines actief waren. Hieronder zie je tien van die "historische" kunstenaars en 10 disciplines. Zet bij elke kunstenaar de juiste discipline.

- | | |
|---------------------------|---|
| 1. Frits Cremers | A. beeldhouwwerken en potloodtekeningen |
| 2. José van Och | B. schilderwerken |
| 3. Joep Nicolas | C. balpentekeningen |
| 4. Tiny Vallen | D. pottendraaien |
| 5. Geert Kunen | E. olieverfschilderijen |
| 6. André Denessen | F. grafische werken |
| 7. Martin van de Munckhof | G. keramische beelden |
| 8. Harr Scheffer | H. houtsnijwerk en draaiwerk |
| 9. Dhr. P. Engelen | I. weefwerken |
| 10. Pierre Heinen | J. pentekeningen, lino's, materiaaltekeningen |

- | | | |
|-----------------------|-----|---|
| <input type="radio"/> | 1. | E |
| <input type="radio"/> | 2. | C |
| <input type="radio"/> | 3. | A |
| <input type="radio"/> | 4. | I |
| <input type="radio"/> | 5. | G |
| <input type="radio"/> | 6. | J |
| <input type="radio"/> | 7. | B |
| <input type="radio"/> | 8. | F |
| <input type="radio"/> | 9. | H |
| <input type="radio"/> | 10. | D |

7

Wie iets bewaart... Dit zijn kunstwerken van een ander kaliber. Bedenk maar ieder jaar een soort van instrument wat niet veel kost, toch stevig is en té leuk om weg te gooien. Zet de attributen die uitgedeeld worden tijdens de kinjeroptoch in de juiste volgorde zodat van links naar rechts een tijdlijn ontstaat.



5-3-8-1-9-7-2-10-6-4

8

Lees het onderstaande gedicht en maak de vragen:

De haan mit zienne sjoeënne roeëje [...A...]
 Leep mit zien hónder langs de wei
 Dao zoog d'r plotseling 'n reuze-ei
 Det hae toen tösse zien puuët klamp

Kakelend sjónge de hónder d'r bie
 Nemes kós zegke van waem det waas
 "Kóm", zag de haan dao-op, "aan mien ziej"
 "Same breuje, det kump good van pas".

Dao zote ze röstig alle zeve,
 Nao 'n tiedje zag de haan: "Ich bön naat!"
 "Ich veul det al mien vleugels plekke"
 "Van ós auch", reep de res, "'t is krek 'n bad".

Ze sjprónge van 't plekkerige goedje aaf
 De haan of de hónder hóbbe noeëts gewete,
 Det ze same, messjien waal veur straof
 Op 'n groeët raos [...B...] hóbbe gezaete!

1. Welk woord is er weggelaten op plek A?

kamp

2. Welk woord is er weggelaten op plek B?

paosei

3. Wie schreef dit gedicht?

zuster Catharina Veldman

4. Uit welk jaar komt dit gedicht?

1985

5. Citeer een zinsgedeelte waaruit een christelijke ondertoon blijkt.

'messjien waal veur straof'

9

'Reuvers' talent gaat buitendorps...

1. Tijdens de Opus Jocus Leedjesavond hebben vier Reuvernaren met hun talent goed gescoord. Wie waren deze personen en wat was hun rol bij de Jocus leedjesavond?

- Emiel Ketelapper schreef het winnende liedje met
- Koos Franssen
- Marina Claessen werd derde meteen nummer waar
- Jack Claessen de muziek voor schreef

2. Wie speelde in de Ruiverse Revue in 2024 en maakt ook deel uit van de cast van de Venlose Revue in 2026?

- Bianca Hendrix

3. Welke acteur/actrice uit de Ruiverse Revue 2024 zal ook een rol spelen tijdens de Passiespelen in 2026?


- Pascal Gommans

4. Welke Reuverse/Reuvernaar speelde dit jaar een rol in een televisieserie op NPO? Welke televisieserie was dit?

- Bibi Linssen, de Eindmusical



HORECA



1

Zie onderstaande afbeeldingen van speciaalbier glazen.
Van welk biermerk is betreffend glas?



1

Leffe




2

Kasteel



3

Bitburger



4

Jopen



5

Delirium




6

Westmalle



7

Gouden Carolus



8

St Bernardus



9

Affligem



10

Karmeliet

2

Vroeger hadden we enorm veel cafés in Reuver. Wat je misschien niet weet is dat café Ronckenstein eerst een andere naam heeft gehad. Dan gaan we terug naar 1958. Er is een ansichtkaart opgedoken en daar staat warempel een andere naam op. We helpen je een beetje op weg: Café Restaurant ... Wat komt op de puntjes?

Marktzicht

3

Bak één grote koek in de vorm van de Skyline van Reuver. Zie onderstaand voorbeeld van de skyline. Inleveren samen met dit boekje.



4

Waar wordt gedronken, moet ook geplast worden. Waar hangen de onderstaande urinoirs?



De grens



De Schans



Luxor



de Paerssjtal



de Veldmanstokerij

2

Vroeger hadden we enorm veel cafés in Reuver. Wat je misschien niet weet is dat café Ronckenstein eerst een andere naam heeft gehad. Dan gaan we terug naar 1958. Er is een ansichtkaart opgedoken en daar staat warempel een andere naam op. We helpen je een beetje op weg: Café Restaurant ... Wat komt op de puntjes?

Marktzicht

3

Bak één grote koek in de vorm van de Skyline van Reuver. Zie onderstaand voorbeeld van de skyline. Inleveren samen met dit boekje.



4

Waar wordt gedronken, moet ook geplast worden. Waar hangen de onderstaande urinoirs?



De grens



De schans



Luxor



de Paerssjtal



de Veldmanstokrij

5

De Reuverse verenigingen maken maar al te graag gebruik van (o.a.) de horecagelegenheden in het dorp om te kunnen repeteren of trainen. Bekijk de onderstaande verenigingen en noteer bij elke vereniging wat de laatst bekende vaste residentie is (waar dus repetities of trainingen plaatsvinden/-vonden).

1. TTV Noad

De Schakel

2. WhatEver

't ~~Aan~~ Anker

3. Joekskepèl de Gresbuus

De Paerssjtal

4. PUUR Theater

't Gres / de Gresbuus / 't Grescollege

5. De Manuskapel

Killaars Elektro

6. Biljartclub Oppe Ruiver

Café 't Heutske

7. Reuvers Mannenkoor

De Schakel

8. Joekskepèl de Sjtökers

Café Ronckenstein

9. Net Oet Bèd

De Rockstation

10. No Limit

my35

6

Een foto uit de oude doos...



1. Wat is de naam van het café waar dit gezelschap voor zit?

Verstappen

2. Bestaat dit pand nog?

nee (het is afgebrand)

3. Wat is de gezamenlijke achternaam van dit gezelschap?

Verstappen

4. Uit welk jaar is deze foto?

1932 1913

5. Welk café staat nu op deze plek?

't Heukske

7

In het Burgerbos staat een boomhoroscoop. Wij willen van jullie weten welke boom hoort bij de persoon van deze Horecaonderneming:

1. Café Rockenstein / Sjors
2. LEF / Job
3. Café de Paerssjtal / Harrie
4. Carlo's / Sandy
5. Mert 5 / Roy
6. De Schakel / Mark
7. 't Heukske / Marianne
8. Grenscafe de Bos / Rudy
9. De Bongerd / Mark
10. De Witte stein / Desiree

1. Linde
2. Notenboom
3. Populier
4. Haagbeuk
5. Hazelaar
6. Ceder
7. Cipres
8. Spar
9. Linde
10. Ceder

8

Bieren kun je volgens de opleiding 'Stibon' indelen in diverse categorieën.

1. Soepel en subtiel
2. Fris en fruitig
3. Amber en elegant
4. Blond en krachtig
5. Donker en rijk
6. Intens en uitdagend

Zoek bij elk van deze categorieën 1 flesje bier en zorg dat één van de teamleden ermee op de foto staat, terwijl hij of zij dit drinkt. Let op: het etiket moet goed zichtbaar zijn.
Zet de foto's op de in te leveren USB stick.

RONDJE REUVER

1

In de kloostertuin liggen diverse graven van (oud-)nonnen.

1. Hoeveel mensen liggen hier begraven (als we aannemen dat ook bij elk kruis zonder leesbare inscriptie één persoon begraven ligt)?

80

2. Wat is de sterfdatum van zuster Waltruda Jeurissen?

9 januari 1994

3. Hoe oud is zuster PH. Elsensohn geworden?

68

2

Op de foto's staan een vijftal prinsesmedailles. Welke prins en het bijbehorende jaartal ontbreekt op de medailles.



Toën I
1977



Leon I
2004



Ron I
1996



Har I
1988



Wie II
1983

3

Reuver kent een aantal Rijksmonumenten. Je ziet hier vijf bordjes, die bij betreffende monumenten zijn geplaatst. Op ieder bordje ontbreken enkele woorden of namen. Vul de ontbrekende tekst aan.

1

Oorspronkelijk de woning van de molenaar. Vroeger werd dit De Hoff aen gen Ronckenstein genoemd. Nadat in 1656 molenaar Hendrick Segers op de boerderij kwam te wonen, kreeg ze de naam **17121111**. De boerderij met **11111111** dateert uit de tweede helft van de 18de eeuw.

Rijksmonument

Segershof
Wolfsdak

2

11111111 met bijbehorende duiker van de Schellekensbeek (scheidingsbeek tussen Belfeld en Reuver). Het viaduct werd aangelegd in 1864 toen men ten behoeve van de spoorlijn Venlo-Maastricht een dijk moest aanleggen door het Foekebroek. Ook de weg die van Ronckenstein naar het Foekebroek liep, werd bij deze gelegenheid verlegd. In 1932 werd het viaduct door architect **11111111** uit Blerick gerenoveerd. Aan de westkant van het viaduct zijn in de muur twee kleine stenen ingemetseld met aanduiding van het NAP-peil.

Gemeentelijk monumen

Spoorwegviaduct
J. Grubben

3

Deze boerderij van het gesloten hoftype bestaat uit vier vleugels. De westelijke is de woonhuisvleugel, de oostelijke was oorspronkelijk de schuurvleugel. De zuidvleugel aan de straatzijde en de vleugel aan de noordzijde zijn als stal in gebruik. De boerderij werd gebouwd in 1857-1858. Op 30 juli 1866 en op 16 december 1876 brandde de boerderij na blikseminslag gedeeltelijk af. De boerderij heeft nog een mooie **11111111** met in de sluitsteen de initialen van de bouwers PIB ILM **11111111** en Ida Louisa Mertz uit Venlo). In 1934 werd in de voorgevel een **11111111** ingemetseld bij het bezoek van Mgr. Lemmens, bisschop van Roermond, aan een sportevenement van Hercules.

Rijksmonument

Korfboogpoort
Pieter Jozef Berger

4

De kapel wordt voor het eerst genoemd in **1111**. Zij behoort dan bij de Nederhoeven (Onderste Hof), die al voor 1400 eigendom was van de **11111111**.

De Nederhoeven kwam in 1449 aan de Kruisheren van Roermond, die haar in 1783 moesten afstaan. De huidige gebouwen zijn gedeeltelijk uit het einde van de 18e eeuw.

1761
Heren van Kessel

5

gebouwd in 1878-1880 door architect J. Kayser in **11111111** van Noord Duitse **11111111**. Uitgebreid 1907 en 1923 in zelfde stijl. Tot het interieur behoren enkele 15de en 16de eeuwse houten beelden, een **11111111** en een triomfkruis.

Baksteengotiek
Neo-gotisch hoogaltaar

4

Bekijk de onderstaande afbeelding.



1. Waar in Reuver is deze afbeelding te bewonderen?

(in) de Lambertuskapel

2. Hoeveel van deze engelenfiguren zijn er bij elkaar afgebeeld?

twee

3. Wie heeft deze schildering gemaakt?

Hub Pollen

4. In welk jaar is deze schildering gemaakt?


2008

5. Onder deze schildering is iets wat van binnenuit een nis lijkt. Waarvan is deze nis gebouwd (zoals het aan de buitenzijde nog zichtbaar is)?

maaekeien

5

Gemeente Beesel is een aantal bankjes rijker. Eens kijken of jullie weten waar deze bankjes staan.



1. Op de eerste foto zie je een ligbank. Ga op de betreffende bank liggen en maak een foto waarop de bank én jijzelf helemaal zichtbaar zijn.



2. Op de tweede foto zie je een bank met een speciale tekst. Van deze banken zijn een aantal verschillende exemplaren geplaatst. Maak een foto van iemand zittend op het bankje met de tekst 'Preuf 't Landj in mich'. Let op: we willen ook iets van de omgeving zien, zodat wij zeker weten dat jullie het juiste bankje hebben gevonden.



Plak beide foto's in het boek.

6

Bekijk de onderstaande brief die getiteld is "bekendmaking" en beantwoord de vragen.

GED ZULT HET VOEDSEL VOOR DE WERELD NIET
 IN DIE MATE MOGEN ONTREKKEN VOOR HET
 LEVEN OP DE WERELD ZELF.
 GED MOET U BEDIENEN VAN DE VRUCHTEN
 DIE DE WERELD OPBRENGT:
 VOOR UW MODERNE LEVENSWIJZE VAN ENER-
 GIE GEBRUIK ZULT U ANDERE VORMEN VAN
 ENERGIË-ONTWIKKELING MOETEN ZOEKEN:
 DIT MOET GEBEUREN UIT DE VRUCHTEN
 DIE DE WERELD AFWERPT OF AF KAN WERPEN
 DE GROEI VAN ALLE LEVEND WEZEN OP DE WERELD
 HEEFT EEN GROTERE MOOD NAAR ENERGIË DOEN
 ONTSTAAN, TE MEER DOOR DE VERANDERING VAN
 DE LEVENSWIJZE. DEZE IS MEER EN MEER
 VAN DE NATUURLIJKE GAAN AFWIJKEN, EN
 ZODOENDE WORDT ER NIET MEER IN EEN
 NATUURLIJKE ZIN VAN DE WERELD GEBRUIK
 GEMAAKT.
 U ZULT VOORAL DOOR HET STOPPEN VAN ENERGIË-
 GEBRUIK VOOR MENSELIJKE STRIJD HET MEESTE
 KUNNEN BESPAREN. DE WERELD IS ZIEK MOMENTEEL
 DOOR HET TEVEEL ONTREKKEN VAN ENERGIË EN
 KAN IN MOEILYKHEDEN KOMEN VERDER TE
BESTAAN. MAAK GEBRUIK VAN DE VRUCHTEN

1. Deze brief komt uit het jaar ...?

- A 1954
- B 1964
- C 1974
- D 1984
- E 1994
- F 2004



C

2. Wie heeft deze brief geschreven?



Willem Limburg

3. De laatste zin luidt: "Maak gebruik van de vruchten ..."

De laatste twee woorden zijn weggesneden. Wat zijn deze twee woorden?



der aarde

8

Beantwoord de onderstaande vragen.

1. De vrijwilligers van de Reuverse verenigingen en stichtingen sprokkelen de centjes bij elkaar met verschillende huis-aan-huisacties. Bekijk de onderstaande huis-aan-huisacties. Noteer voor elke actie de bijbehorende vereniging en het weeknummer waarop deze vereniging langs de huizen ging of gaat in 2025.?

1. Statiegeldflessenactie
2. Stroopactie
3. ~~Kras~~lotenactie
4. Worstverkoop
5. Peperkoekactie

1	Jong Nederland	-	week 39
2	Fluiterkorps	-	week 40
3	Reuvers Mamenkoor	-	week 36
4	Boerebroedof	-	week 44
5	Revoc	-	week 45

2. In de meivakantie gaan de jeugdleden van Scouting Lambertus Reuver langs de deuren voor de actie heitje-voor-een-karweitje. Maar hebben jullie eigenlijk nog wel een 'heitje'? Plak hieronder in het boek een echt 'heitje'.

5 pt

9

Door Reuver loopt een treinspoor. Daarover gaan de volgende vragen.

1. Wat was het doorslaggevende argument om de spoorweg aan onze kant van de Maas aan te leggen en niet aan de westelijke Maasoever?

de (klei-)industrie

2. Hoeveel slagbomen tellen alle spoorwegovergangen in de Reuverse bebouwde kom samen?

23

3. Wie is verantwoordelijk voor de oranje knipperende waarschuwingslichten die bij sommige spoorwegovergangen staan? Kies uit:

- A. De gemeente
- B. De provincie
- C. Rijkswaterstaat
- D. De NS
- E. Arriva
- F. ProRail

A

4. Hoeveel van deze oranje knipperende lichten staan er binnen onze bebouwde kom?

6



VERKEER

1

Gemeente Beesel is door de jaren heen flink gegroeid. Karrensporen zien we niet meer, vrijwel alles is verhard. Echte steegjes zoals vroeger bij kapper Neutje vind je bijna niet meer. Ook straatnamen zijn veranderd.

1. Zo hadden we vroeger de St Antoniuslaan in Reuver. Weet jij welke 2 straten deze tegenwoordig zou verbinden?

pastoor Urackenlaan en Kesselseweg

2. Wat is de oude benaming van de Rembrandtstraat in Reuver? We bedoelen niet 'De oude Moolen straat' of Klaashofweg!

De baek

3. Hoe heet de zandweg tussen de Burgemeester Janssenstraat en Bakheide in Beesel?

Berkenhutweg

4. Hoe heet de zandweg tussen Rijkkel en Ouddorp, vroeger ook wel Veeh straat genoemd. En waaraan dankt deze weg zijn naam?

Drakenweg - hier werd een deel van het draaksteken gespeeld.


5. Hoe heet de straat in Meerlebroek tussen Keulseweg en St. Willibrordusdijk? Waaraan dankt deze weg zijn naam?

Dubbelweg - parallel aan deze weg liep nog een weg aan de andere kant van de sloot.

2



Niemand weet meer van tijdreizen dan Marty MacFly en Dr. Brown. Tenslotte hadden ze de tijdmachine in de vorm van een Delorean. Knutsel van papier net zo'n Delorean als die uit Back to the future. Laat jullie knutselwerk door ons controleren tussen 22.00 en 23.00 uur bij café zaal Ronckenstein. Vergeet daarbij niet jullie teamnaam/nummer te vermelden.



3

Beantwoord de onderstaande vragen.

1. Noem een straat in Reuver of Offenbeek die een eenrichtingsstraat is.

Sint Gerardusstraat

2. Noem drie straten in Reuver of Offenbeek die gedeeltelijk een eenrichtingsstraat zijn.

Sint Annastraat, Den Rover, Pastoor Vrandenlaan

3. Bij welke van deze straten is de richting ooit (tijdelijk) gewijzigd?

Pastoor Vrandenlaan

4. Noem een straat in Reuver die vroeger lang een eenrichtingsstraat is geweest, totdat deze vernieuwd is.

Emmastraat

5. Wat heeft het onderstaande paadje te maken met eenrichtingsstraten?

Volgens Google Maps is dit een eenrichtingsstraat / Vroeger liep hier een eenrichtingsstraat



4


Geef voor elk van de onderstaande verkeersborden aan in welk land of welke twee landen deze te vinden is?




Spanje en Andorra



Ierland



Frankrijk



Canada




Denemarken



Denemarken



Polen



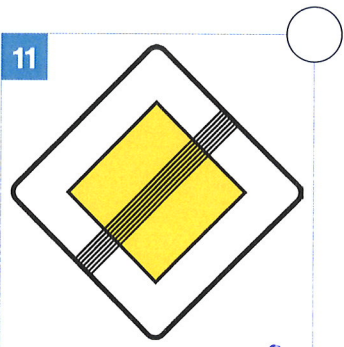
Ierland



Polen



Finland



Slovenië

7

Door Reuver loopt een fietsroute die is aangegeven met deze bordjes.



1. Waarvoor dient deze route?

Het fietsexamen/verkeersexamen voor basisscholieren

2. Waar begint deze route?

Bij de voetbalvelden / aan de Sint-Jozefweg

3. Hoe vaak moet je – volgens de officiële verkeersregels – je linkerhand uitsteken op deze route?

9, 10, 11 of ~~12~~ keer

4. Hoe vaak moet je – volgens de officiële verkeersregels – je rechterhand uitsteken op deze route?


13 of ~~14~~ keer

5. Hoeveel kilometer is deze route?

6,5 à 7

8

Dit bord staat ergens in de Gemeente Beesel.



1. Welke plaatsnaam staat op het derde bord?

Rijkel

2. Op welke datum werd deze bewegwijzering geplaatst?

28 september 1894

3. Aan welke twee straten grenst deze paal?

Burgemeester Janssenstraat & Rijkel

9

Iedereen kent wel de snelheidsmeters met smileys die je naast de weg ziet staan.

Ze lachen je niet alleen toe als jij je braaf aan de snelheid houdt, ze vertellen je ook je snelheid. Maak een filmpje waarop een bepaalde snelheidsindicatie op deze meter te zien is doordat je met de fiets voorbijrijdt. Zorg dat je elk filmpje op een andere straat opneemt. Je maakt dus twee filmpjes in totaal.

- 23 km/h

- 18 km/h

Let op: Bovenstaande snelheden vallen weliswaar binnen de snelheidslimiet, maar blijft alert. Als het voor de verkeerssituatie onveilig is om deze snelheid te rijden, doe dit dan niet en probeer het even later nog een keer, als die ruimte er wel is. Breng jezelf en andere weggebruikers niet in gevaar! Dat betekent dus ook dat het filmpje niet gemaakt wordt door een bestuurder, maar door een rijder of passant. Filmpjes vanuit een bestuurderspositie leveren 0 punten op. Lever de filmpjes in op de USB stick



JEUGD



1

Google gebruikt op feestdagen of andere speciale momenten bijzondere logo's, ook wel Doodles genoemd. Hieronder staan 5 van deze Doodles vermeld. Noteer op welke datum deze door Google gebruikt is.



1

6 augustus '15



2

7 oktober '09




3

1 januari 2011




4

27 april '23



5

30 augustus 1998




2

Wie is er nu niet groot geworden met de Flintstones. Vandaag reizen jullie terug in de tijd, nog ver voordat Gemeente Beesel überhaupt bestond. Maak met je groepsgenoten een groepsfoto waarbij je onderstaande afbeelding zo goed mogelijk nabootst.

Fotoshoppen wordt afgestraft en zet betreffende foto op de in te leveren USB stick.

Criteria:




3


We hebben het allemaal wel eens gespeeld: Mario Kart.

Bekijk de onderstaande afbeeldingen. Geef voor elke afbeelding aan:


1. Welke baan je hier ziet.
2. In welke versie van Mario Kart deze baan het eerst voorkwam.
3. Voor welk platform dit spel verscheen.




Toad's Turnpike
Mario Kart 64
Nintendo 64



Ribbon Road
Mario Kart: Super Circuit
Gameboy Advance / GBA



Maple Treeway
Mario Kart Wii
(Nintendo) Wii



Ice ice outpost
Mario Kart 8
(Nintendo) Switch



Sherbet Land
Mario Kart: Double Dash
(Nintendo) Game Cube

4

In de Playstore staan ongelooflijk veel games en apps voor telefoon, tablet, tv etc. Hieronder staan 10 uitsnedes van games en apps. De vraag is welke naam erbij hoort.




Hill Climb Racing 2



Kingdom Rush 5 (Alliance TD)



Ludo King



Merge Labs Isometric



Outerplane



Heroes of Loot 2



Design match 3D



Shadow of the depth (beyond the abyss)



Simulacra



Cosy Town

5

Maak een regenboogfoto. Zorg dat je met zeven personen de kleuren van de regenboog uitbeeldt. Elke persoon beeldt één kleur uit door te zorgen dat die kleur van top tot teen terugkomt in het uiterlijk. Let erop dat jullie daarbij in de juiste volgorde staan.
Plak de foto in het boek.



6

De animatieserie Avatar the last airbender over de avatar Aang kreeg een vervolg: de serie Avater: The legend of Korra. En binnenkort komt er een nieuw vervolg: Avater: seven havens. Eens kijken hoe bekend jullie zijn met deze series.

1. Er is een menselijk personage dat Aang en Korra beiden ontmoeten en waarvan de eerste ontmoeting onlosmakelijk verbonden is met een specifieke plek. Welk personage is dit en om welke plek gaat het?

Toph (Beifong) in het moeras

2. Een Engelse stemacteur vertolkte in beide series een menselijk personage. Hoewel dit voor de tweede serie een ander personage is, is er wel een direct verband tussen deze twee personages. Om welke stemacteur gaat het?

Dante Basco

3. Welke uitvinding van Sokka zag hij tegen zich gebruikt worden tijdens de aanval op de vuurnatie?

Luchtschepen

4. De eerste keer dat Korra Aang ziet, geeft hij haar iets. Wat geeft hij haar?

Haar (stuur)krachten (die zij verboren was)

5. Hoe heet de plek waar de hoofdpersonages zich bevinden in onderstaande still?

De westelijke luchttempel / The Western Air Temple



8

Tijdens de eerste lesjes biologie op de peuterspeelzaal gaan we op zoek naar verschillende herfstblaadjes. Ga op zoek naar bladeren van de volgende bomen en lever deze in een ziplock-zakje, dat je op deze pagina plakt.

1. Amerikaanse eikenboom
2. Kastanjeboom
3. Berkenboom
4. Beukenboom
5. Populier

THE END

